

## المتاليات الحسابية على شكل دوال خطية

3-5

الدرس

## 1 التركيز

## التخطيط الرأسي

قبل الدرس 3-5 تحديد الدوال الخطية.

الدرس 3-5 فهم المتاليات الحسابية. ربط المتاليات الحسابية بالدوال الخطية.

بعد الدرس 3-5 كتابة المعادلات بصيغة تقاطع الميل.

## 2 التدريس

## الأسئلة الداعمة

اطلب من الطلاب قراءة القسم **لماذا؟** من الدرس.

## اطرح السؤال التالي:

- ما النمط الذي تراه في المسافات؟ تزداد المسافات في فواصل منتظمة لكل 400 متر.
- ما النمط الذي تراه في أوقات الفريق؟ يزداد في كل مرة بمقدار دقيقة واحدة و32 ثانية عن الوقت الذي يسبقه.
- كيف يمكنك إيجاد وقت الفريق عند مسافة 2000 متر؟  $6:08 + 1:32 = 7:40$

## لماذا؟

## الحالي

## السابق

- خلال سباق التجديف لمسافة 2000 متر، سجل مدرب فريق التجديف الزمن الذي استغرقه الفريق في عدة فترات زمنية منفصلة.
- عند مسافة 400 متر، استغرق الفريق دقيقة واحدة و32 ثانية.
- عند مسافة 800 متر، استغرق الفريق 3 دقائق و4 ثوانٍ.
- عند مسافة 1,200 متر، استغرق الفريق 4 دقائق و36 ثانية.
- عند مسافة 1,600 متر، استغرق الفريق 6 دقائق و8 ثوانٍ.
- وقد أكملوا السباق في غضون 7 دقائق و40 ثانية.

- 1 افهم المتاليات الحسابية.
- 2 اربط المتاليات الحسابية بالدوال الخطية.

- حدد الدوال الخطية.

**1 فهم المتاليات الحسابية** يمكنك ربط نمط الزمن الذي استغرقه الفريق بدوال خطية. **المتالية** هي مجموعة أعداد، تسمى **حدود المتالية**، لها ترتيب معين. ابحث عن نمط في المعطيات الخاصة بفريق التجديف التالي. ارسم جدولاً لتحليل البيانات.

المسافة (m)	الزمن (min : sec)
2000	7:40
1600	6:08
1200	4:36
800	3:04
400	1:32

$$+ 1:32 \quad + 1:32 \quad + 1:32 \quad + 1:32$$

بما أن المسافة تزداد في فواصل زمنية منتظمة، فإن الزمن يزداد بمقدار دقيقة واحدة و32 ثانية. وبما أن الفرق بين الحدود المتتالية ثابت، فإنه يطلق عليها **متالية حسابية**. الفرق بين الحدود يسمى **الفرق المشترك**  $d$ .

## مفهوم أساسي المتالية الحسابية

المتالية الحسابية هي نمط عددي يزيد أو يقل بمعدل ثابت يسمى بالفرق المشترك.

أمثلة

$$3, 5, 7, 9, 11, \dots, 33, 29, 25, 21, 17, \dots$$

$$+2 \quad +2 \quad +2 \quad +2 \quad \quad \quad -4 \quad -4 \quad -4 \quad -4$$

$$d = -4 \quad \quad \quad d = 2$$

النقاط الثلاثة المستخدمة بعد العدد الأخير تشير إلى أن المتالية غير منتهية أو للدلالة على وجود المزيد من الحدود في المتالية لم يتم ذكرها.

## مفردات جديدة

متالية (sequence)  
حدود المتالية (terms of the sequence)  
متالية حسابية (arithmetic sequence)  
الفرق المشترك (common difference)

## ممارسات رياضية

البحث عن التوافق في الاستنتاجات المتكررة والتعبير عنه.

### مثال 1 تحديد المتتاليات الحسابية

حدد أي متتالية تمثل متتالية حسابية. اشرح.

a.  $-4, -2, 0, 2, \dots$

$$\begin{array}{cccc} -4 & -2 & 0 & 2 \\ & \uparrow & \uparrow & \uparrow \\ & +2 & +2 & +2 \end{array}$$

الفرق بين الحدود في المتتالية ثابت. وبالتالي، فإن هذه المتتالية حسابية.

b.  $\frac{1}{2}, \frac{5}{8}, \frac{3}{4}, \frac{13}{16}, \dots$

$$\begin{array}{cccc} \frac{1}{2} & \frac{5}{8} & \frac{3}{4} & \frac{13}{16} \\ & \uparrow & \uparrow & \uparrow \\ & +\frac{1}{8} & +\frac{1}{8} & +\frac{1}{16} \end{array}$$

هذه ليست متتالية حسابية، لأن الفرق بين الحدود ليس ثابتاً.

تمرين موجه

نعم؛ تحتوي المتتالية على فرق مشترك مقداره 4.

1A.  $-26, -22, -18, -14, \dots$

1B.  $1, 4, 9, 25, \dots$

1B. لا؛ لا تحتوي المتتالية على فرق مشترك.

يمكنك استخدام الفرق المشترك لمتتالية حسابية لإيجاد الحد التالي.

### مثال 2 إيجاد الحد التالي

أوجد الحدود الثلاثة التالية للمتتالية الحسابية  $\dots, -3, 3, 9, 15$ .

**الخطوة 1** أضف  $-6$  إلى الحد الأخير للمتتالية **الخطوة 2** أوجد الفرق المشترك بطرح الحدود المتتالية لإيجاد الحد التالي.

$$\begin{array}{cccc} -3 & -9 & -15 & -21 \\ & \uparrow & \uparrow & \uparrow \\ & -6 & -6 & -6 \end{array} \quad \begin{array}{cccc} 15 & 9 & 3 & -3 \\ & \uparrow & \uparrow & \uparrow \\ & -6 & -6 & -6 \end{array}$$

الفرق المشترك هو  $-6$

الحدود الثلاثة التالية في المتتالية هي  $-21, -15, -9$ .

تمرين موجه

2. أوجد الحدود الأربعة التالية للمتتالية الحسابية  $\dots, 9.5, 11.0, 12.5, 14.0$ .

**15.5, 17.0, 18.5, 20.0**

يمكن التعبير عن كل حد في المتتالية الحسابية وفق الحد الأول  $a_1$  والفرق المشترك  $d$ .

الحد	الرمز	فيما يتعلق بالرمز $a_1$ و $d$	الأعداد
الحد الأول	$a_1$	$a_1$	8
الحد الثاني	$a_2$	$a_1 + d$	$8 + 1(3) = 11$
الحد الثالث	$a_3$	$a_1 + 2d$	$8 + 2(3) = 14$
الحد الرابع	$a_4$	$a_1 + 3d$	$8 + 3(3) = 17$
$\vdots$	$\vdots$	$\vdots$	$\vdots$
الحد $n$	$a_n$	$a_1 + (n - 1)d$	$8 + (n - 1)(3)$

### نصيحة دراسية

**الانتظام** لاحظ الانتظام في طريقة تغيير التعابير فيما يخص  $a_1$  و  $d$  مع كل حد في المتتالية.

### أمثلة إضافية

1 حدد هل كل متتالية تمثل متتالية حسابية أم لا. اشرح.

a.  $-15, -13, -11, -9, \dots$   
نعم؛ يوجد فرق مشترك وهو 2.

b.  $\frac{7}{8}, \frac{5}{8}, \frac{1}{8}, -\frac{5}{8}, \dots$

لا؛ لا يوجد فرق مشترك.

2 أوجد الحدود الثلاثة التالية

للمتتالية الحسابية

$-8, -11, -14, -17, \dots$

$-20, -23, -26$

### نصائح للمعلمين الجدد

**البناء على المعرفة السابقة** اطلب من أحد المتطوعين العد من الصفر بالتخطي بمعدل رقمين. واطلب من متطوع آخر العد من الصفر بالتخطي بمعدل ثلاثة أرقام. واطلب من متطوع ثالث العد من الصفر بالتخطي بمعدل خمسة أرقام. اشرح للطلاب أنهم عندما يعدّون بمقدار عدد معين سواء كان 1، أو 2، أو 3، أو 5، أو  $\frac{1}{8}$ ، فإنهم يستخدمون متتالية حسابية لأنه يوجد فرق مشترك.

### مفهوم أساسي الحد $n$ للمتتالية الحسابية

يتم إيجاد الحد  $n$  للمتتالية الحسابية باستخدام الحد الأول  $a_1$  والفرق المشترك  $d$  بواسطة  $a_n = a_1 + (n - 1)d$ . حيث  $n$  هو عدد صحيح.

190 | الدرس 3-5 | المتتاليات الحسابية على شكل دوال خطية

### التعليم المتميز

**التوسع** يمكن برمجة المتتاليات الحسابية في حاسبات التمثيل البياني ويتم عرض النتائج في قوائم. قد يكون من الخيارات الجيدة للمتعلمين المتفوقين أو أولئك الذين يستمتعون باستخدام التكنولوجيا تحديد مكان مجموعة من التوجهات لبرمجة متتالية معينة أو تطوير درس لزملاء الفصل حول تحليل المتتاليات باستخدام الآلة الحاسبة.

اكتب معادلة للحد  $n$  للمتتالية الحسابية  $0, -4, -8, -12, \dots$

**الخطوة 1** أوجد الفرق المشترك.



الفرق المشترك هو 4.

**الخطوة 2** اكتب معادلة.

صيغة الخاص بالحد  $n$

$$a_1 = -12 \text{ و } d = 4$$

خاصية التوزيع

حوّل لأبسط صورة

b. أوجد الحد التاسع للمتتالية.

عوض بالرقم 9 عن  $n$  في الصيغة الخاصة بالحد  $n$ .

صيغة الخاصة بالحد  $n$

$$n = 9$$

اضرب

حوّل لأبسط صورة

c- ارسم تمثيلاً بيانياً للحدود الخمسة الأولى للمتتالية.

$n$	$4n - 16$	$a_n$	$(n, a_n)$
1	$4(1) - 16$	-12	(1, -12)
2	$4(2) - 16$	-8	(2, -8)
3	$4(3) - 16$	-4	(3, -4)
4	$4(4) - 16$	0	(4, 0)
5	$4(5) - 16$	4	(5, 4)

d- أي حدود المتتالية هو 32؟

في صيغة الخاص بالحد  $n$ . عوض بالعدد 32 عن  $a_n$ .

الخاص بالحد  $n$  5.86

$$a_n = 32$$

اجمع 16 على كل طرف

حوّل لأبسط صورة

اقسم كل طرف على 4

**تمرين موجه**

ادرس المتتالية الرياضية  $\dots -36, -23, -10, 3$ .

3A. اكتب معادلة للحد  $n$  للمتتالية.  $a_n = -13n + 16$

3B. أوجد الحد الخامس عشر في المتتالية.  $-179$

3C. ارسم تمثيلاً بيانياً للحدود الخمسة الأولى للمتتالية. **انظر الهامش.**

3D. أي حدود المتتالية هو  $114 - 9$ ؟

### مثال إضافي

3 a. اكتب معادلة للحد  $n$

للمتتالية الحسابية

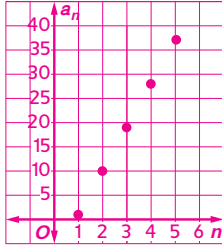
$\dots, 1, 10, 19, 28,$

$$a_n = 9n - 8$$

b. أوجد الحد الثاني عشر

للمتتالية.  $a_{12} = 100$

c. ارسم تمثيلاً بيانياً للحدود الخمسة الأولى للمتتالية.



d. أي حدود المتتالية هو 172؟

الحد العشرون

### التركيز على محتوى الرياضيات

**المتتاليات الحسابية** بعد الحد الأول.

يمكن إيجاد كل حد من حدود المتتالية

الحسابية عن طريق جمع الفرق

المشترك. يتم إيجاد الحد  $n$  للمتتالية

حسابية باستخدام الحد الأول  $a_1$  والفرق

المشترك  $d$  المعطى بواسطة

$$a_n = a_1 + (n - 1)d$$

عندًا صحيحًا موجبًا.

### التدريس باستخدام التكنولوجيا

**الهدفية** في مدونة الوحدة الدراسي

المؤتمنة، اطلب من الطلاب إدخال

كيفية إيجاد حد معين لمتتالية حسابية.

تأكد من أن الطلاب يستخدمون قاعدة

إيجاد الحد  $n$  للمتتالية. اطلب من كل

فصل اختيار أفضل شرح لتمثيلهم ونشره

على الموقع الإلكتروني للفصل من أجل

الرجوع إليه.

### تدريس المهارات الرياضية

**الانتظام** يلاحظ الطلاب المتفوقون في

الرياضيات تكرر العمليات الحسابية

إن وجدت ويبحثون عن الطرق العامة

والمختصرة معًا. شجّع الطلاب على

البحث عن أنماط في المتتاليات في

المثالين 1 و2، قبل تمثيل القاعدة

الخاصة بالحد  $n$  للمتتالية الحسابية.

**اكتبه!**

**تجنب الأخطاء** تأكد من تتبع الطلاب بعناية

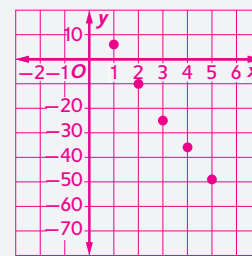
للمتغيرات في الدالة  $a_n = a_1 + (n - 1)d$  لأنه

من السهل التعويض عن المتغير الخاطئ عند

استخدام هذه الدالة.

### إجابة إضافية (تمرين موجه)

3C.



**2 المتتاليات الحسابية والدوال** كما ترى في المثال 3، يقع التمثيل البياني للحدود الخمسة الأولى للمتتالية الحسابية على مستقيم. المتتالية الحسابية هي دالة خطية يكون فيها  $n$  هو المتغير المستقل، بينما  $a^n$  هو المتغير التابع و  $d$  هو الميل. يمكن إعادة كتابة الصيغة في صورة الدالة  $f(n) = (n - 1)d + a_1$  حيث  $n$  هو عدد من أعداد الحساب.

في حين أن مجال معظم الدوال الخطية جميعه أرقام حقيقية، إلا أن مجال الدالة في المثال 3 هو مجموعة أعداد الحساب ومدى الدالة هو مجموعة الأعداد الصحيحة على المستقيم.

### مثال 4 من الحياة اليومية المتتاليات الحسابية على شكل دوال

**دعوات** ترسل عاتشة دعوات بريدية لحضور حفل افتتاح معرض الأزياء الذي أقامته. المتتالية الحسابية هي 0.42 AED و 0.84 AED و 1.26 AED و 1.68 AED تمثل تكلفة الطوابق.

a. اكتب دالة لتمثيل هذه المتتالية.

الحد الأول،  $a_1$ ، هو 0.42. أوجد الفرق المشترك.

$$\begin{array}{cccc} 0.42 & 0.84 & 1.26 & 1.68 \\ & \uparrow & \uparrow & \uparrow \\ & +0.42 & +0.42 & +0.42 \end{array}$$

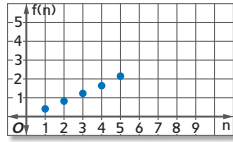
الفرق المشترك هو 0.42.

$$\begin{aligned} a_n &= a_1 + (n - 1)d && \text{صيغة الخاص بالحد } n \\ &= 0.42 + (n - 1)0.42 && a_1 = 0.42 \text{ و } d = 0.42 \\ &= 0.42 + 0.42n - 0.42 && \text{خاصية التوزيع} \\ &= 0.42n && \text{حوّل لأبسط صورة} \end{aligned}$$

الدالة هي  $f(n) = 0.42n$

b. مَثِّل الدالة بيانيًا وحدد المجال.

معدل التغير للدالة يساوي 0.42. صم جدولًا وارسم نقاطًا على التمثيل البياني.



n	f(n)
1	0.42
2	0.84
3	1.26
4	1.68
5	2.10

مجال الدالة هو عدد الدعوات التي ترسلها عاتشة، إذًا، المجال هو  $\{0, 1, 2, 3, \dots\}$ .

تمرين موجه

4. **المسار** يوضح الجدول أدناه طول وثبات رياضة الوثب الطويل التي يؤديها خالد.

الوثبة	1	2	3	4
الطول (ft)	8	9.5	11	12.5

A. اكتب دالة لتمثيل هذه المتتالية الحسابية،  $g(n) = 1.5n + 6.5$ .

B. بعد ذلك، مَثِّل الدالة بيانيًا. انظر الهامش.

## 2 المتتاليات الحسابية والدوال

**مثال 4** يوضح كيفية حل مسألة من الحياة اليومية عن طريق كتابة دالة وتمثيلها بيانيًا لتمثيل متتالية حسابية.

### مثال إضافي

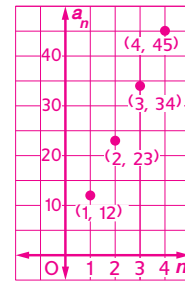
4 **الصحف** المتتالية الحسابية

... 45, 24, 23, 12 تمثل العدد الإجمالي لوزن حقيبة بالأونصات بعد إضافة كل صحيفة إضافية.

a. اكتب دالة لتمثيل هذه

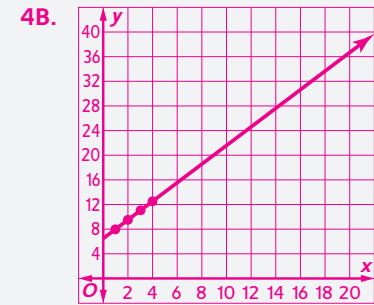
المتتالية،  $a_n = 11n + 1$

b. مَثِّل الدالة بيانيًا وحدد المجال.



$D = 0, 1, 2, 3, \dots$

### إجابة إضافية (تمرين موجه)



إذا يوجد لدى الطلاب اهتمام بالطبيعة.

عندئذ أخبر الطلاب بأننا نرى غالبًا المتتاليات في الطبيعة. اطلب من الطلاب التقاط صور أو البحث عن صور في المجالات أو في التقييمات عن أمثلة للمتتاليات في الطبيعة. وأحد هذه الأمثلة هي المتتالية التي توجد في ترتيب البذور في زهرة الربيع. هذه المتتالية الخاصة تسمى متتالية فيبوناتشي.



### 3 تمرين

#### التقييم التكويني

استخدم التمارين 1-7 للتحقق من الاستيعاب.

استخدم المخطط في أسفل هذه الصفحة لتخصيص مهام لطلابك.

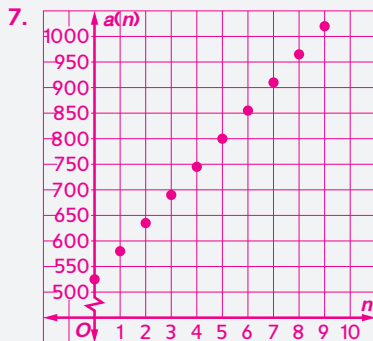
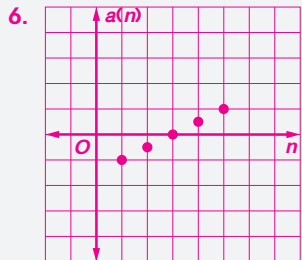
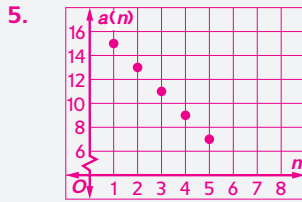
#### تنبه للتمرين

ورق التمثيل البياني سيحتاج الطلاب إلى ورق تمثيل بياني للإجابة عن التمارين 5-7، 18-21، 22-23، 55-50.

#### تدريس الممارسات الرياضية

التمثيل يستطيع الطلاب المتفوقون في الرياضيات تطبيق معلوماتهم في الرياضيات لحل المشكلات التي تنشأ في مكان العمل. في التمرين 23، شجّع الطلاب على اختبار الدالة عن طريق التعويض.

#### إجابات إضافية



#### تحقق من فهمك

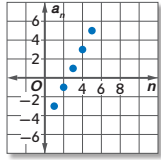
1. 18, 16, 15, 13, ... **لا؛ فلا يوجد فرق مشترك.**
2. 4, 9, 14, 19, ... **نعم؛ فالفرق المشترك هو 5.**
3. 12, 9, 6, 3, ... **0, -3, -6**
4. -2, 2, 6, 10, ... **14, 18, 22**
5. 15, 13, 11, 9, ...  **$a_n = 17 - 2n$**
6. -1, -0.5, 0, 0.5, ...  **$a_n = 0.5n - 1.5$**
7. **المخدرات** لدى هالة AED 525 في حساب التوفير. وبعد شهر واحد أصبح لديها AED 580 في حسابها. وفي الشهر التالي أصبح الرصيد AED 635. وبعد الشهر الثالث أصبح الرصيد AED 690. اكتب دالة لتمثيل المتتالية الحسابية. ثم مثل الدالة بيانياً.
- $a(n) = 55n + 525$ ؛ انظر الهامش للاطلاع على التمثيلات البيانية.**

#### التمرين وحل المسائل

1. **مثال 1** حدد هل كل متتالية تمثل متتالية حسابية أم لا. اكتب نعم أو لا. اشرح.
2. **مثال 2** أوجد الحدود الثلاثة التالية لكل متتالية حسابية.
3. **مثال 3** اكتب معادلة للحد  $n$  لكل متتالية حسابية. ثم ارسم تمثيلاً بيانياً للحدود الخمسة الأولى للمتتالية.
4. **مثال 4** **المخدرات** لدى هالة AED 525 في حساب التوفير. وبعد شهر واحد أصبح لديها AED 580 في حسابها. وفي الشهر التالي أصبح الرصيد AED 635. وبعد الشهر الثالث أصبح الرصيد AED 690. اكتب دالة لتمثيل المتتالية الحسابية. ثم مثل الدالة بيانياً.
8. -3, 1, 5, 9, ... **نعم؛ فالفرق المشترك هو 4.**
9.  $\frac{1}{2}, \frac{3}{4}, \frac{5}{8}, \frac{7}{16}, \dots$  **لا؛ فلا يوجد فرق مشترك.**
10. -10, -7, -4, 1, ... **لا؛ فلا يوجد فرق مشترك.**
11. -12.3, -9.7, -7.1, -4.5, ... **نعم؛ فالفرق المشترك هو 2.6.**
12. 0.02, 1.08, 2.14, 3.2, ... **4.26, 5.32, 6.38**
13. 6, 12, 18, 24, ... **30, 36, 42**
14. 21, 19, 17, 15, ... **13, 11, 9**
15.  $-\frac{1}{2}, 0, \frac{1}{2}, 1, \dots$   **$1\frac{1}{2}, 2, 2\frac{1}{2}$**
16.  $2\frac{1}{3}, 2\frac{2}{3}, 3, 3\frac{1}{3}, \dots$   **$3\frac{2}{3}, 4, 4\frac{1}{3}$**
17.  $\frac{7}{12}, 1\frac{1}{3}, 2\frac{1}{12}, 2\frac{5}{6}, \dots$   **$3\frac{7}{12}, 4\frac{1}{3}, 5\frac{1}{12}$**
18. -3, -8, -13, -18, ...  **$a_n = -5n + 2$**
19. -2, 3, 8, 13, ...  **$a_n = 5n - 7$**
20. -11, -15, -19, -23, ...  **$a_n = -4n - 7$**
21. -0.75, -0.5, -0.25, 0, ...  **$a_n = 0.25n - 1$**
22. **المتنزهات الترفيهية** أمضت خديجة وصديقاتها يوماً في إحدى المتنزهات الترفيهية. في الساعة الأولى، ركبن لعبتين. وبعد ساعتين، ركبن 4 ألعاب. ثم ركبن 6 ألعاب بعد 3 ساعات.
- a. اكتب دالة لتمثيل المتتالية الحسابية.  **$a(n) = 2n$**
- b. مثل الدالة بيانياً وحدد المجال. **انظر ملحق إجابات الوحدة 3.**
23. **استخدام النماذج** يوضح الجدول مقدار ما يتقاضاه ماجد من وظيفة مشرف مخزن الألواح الخشبية.
- | طول قطع ألواح خشبية متاس $2 \times 4$ بالقدم الخطية | المبلغ المدفوع في العمولة (AED) |
|---|---------------------------------|
| 70  | 56                              |
| 60  | 48                              |
| 50  | 40                              |
| 40  | 32                              |
| 30  | 24                              |
| 20  | 16                              |
| 10  | 8                               |
- a. اكتب دالة لتمثيل عمولة ماجد.  **$a(n) = 0.80n$**
- b. مثل الدالة بيانياً وحدد المجال. **انظر ملحق إجابات الوحدة 3.**

#### خيارات الواجب المنزلي المتميزة

المستوى	المهمة	خيار اليومين
AL مبتدئ	8-23, 32, 34, 36-55	32, 34, 36, 41-55 , زوجي 8-22
OL أساسي	9-23, 24-32, 34, 36-55	24-32, 34, 36, 41-55
BL متقدم	24-49 (اختياري), 50-55	



الإعلان في صحيفة الأحد	
AED 10.00 كلمة 20	AED 7.50 كلمات 10
AED 11.25 كلمة 25	AED 8.75 كلمة 15

24. التمثيل البياني هو تمثيل لمتتالية حسابية.

a. اذكر الحدود الخمسة الأولى.  $-3, -1, 1, 3, 5$

b. اكتب الصيغة الخاصة بالحد  $n$ .  $a_n = 2n - 5$

c. اكتب الدالة.  $f(n) = 2n - 5$

34. الإجابة النموذجية: B مجال الدالة الموصوفة بواسطة  $Ax + By = C$  مجموعة تضم جميع الأعداد الحقيقية، والمدى إما أن يكون مجموعة تضم جميع الأعداد الحقيقية أو عددًا واحدًا فقط عندما يكون التمثيل البياني مستقيمًا أفقيًا.

بالنسبة للمتتالية الحسابية، فإن المجال هو مجموعة تضم جميع أعداد العد. المدى سيكون مجموعة منفصلة لا نهائية من الأعداد الحقيقية إذا كان  $d \neq 0$ ، إذا كان  $d = 0$ ، فسيكون المدى  $\{a\}$ .

25. الجرائد تنقاضي إحدى الجرائد المحلية الرسوم بحسب عدد الكلمات الموجودة في الإعلان. اكتب دالة لتمثيل تكاليف الإعلان.  $f(n) = 0.25n + 5$

26. الحد الرابع للمتتالية الحسابية هو 8. إذا كان الفرق المشترك يساوي 2، فما هو الحد الأول؟ 2

27. الفرق المشترك للمتتالية الحسابية يساوي -5. إذا كان  $a_{12}$  يساوي 22، فما هي قيمة  $a_1$ ؟ 77

28. الحدود الأربعة الأولى للمتتالية الحسابية هي 4، 12، 20، 28. أي حدود المتتالية هو -36؟ 9

29. السيارات قراءة عداد المسافة في سيارة جمال هي 24,521 ميلًا. فإذا كان جمال يقود مسافة 45 ميلًا يوميًا، فكم ستبلغ قراءة العداد في 25 يومًا؟ 25,646

30. الكتب السنوية يعمل فريق عمل الكتب السنوية على تفرغ صندوق الكتب السنوية للمدرسة. تمثل المتتالية الحسابية... 248، 259، 270، 281 إجمالي وزن الصندوق بالأوقية كلما تم إخراج كتاب من الصندوق.

a. اكتب دالة لتمثيل هذه المتتالية.  $f(n) = -11n + 292$

b. حدد وزن كل كتاب. 11 oz

c. إذا بلغ وزن الصندوق 11 أونصة على الأقل وهو فارغ و هو ممتلئ، فكم عدد الكتب التي كانت في الصندوق؟ 25

31. الرياضة للتدريب لسباق الماراثون القادم، تخطط تسرين للركض مسافة 3 أميال يوميًا في الأسبوع الأول ثم زيادة المسافة اليومية بنحو نصف ميل في كل أسبوع من الأسابيع التالية.

a. اكتب معادلة لتمثيل الحد  $n$  للمتتالية.  $A_n = 2.5 + 0.5n$

b. في حالة استمرار النمط، ففي أي أسبوع ستركض 10 أميال في اليوم الواحد؟

c. هل من المعقول التفكير أن هذا النمط سيستمر إلى ما لا نهاية؟ اشرح.

الإجابة النموذجية: لا؛ فعدد الأميال التي سيتم ركضها يوميًا سيصبح في النهاية غير معقول.

### مسائل مهارات التفكير العليا استخدام مهارات التفكير العليا

32. مسألة غير محددة الإجابة ابتكر متتالية حسابية ذات فرق مشترك مقداره -10

33. المثابرة في حل المسائل أوجد قيمة  $x$  التي تجعل  $x + 8, 4x + 6$  و  $3x$  أول ثلاثة حدود للمتتالية الحسابية.  $-1$

34. الاستنتاج قارن وبين الفرق بين مجال ومدى الدوال الخطية الموصوفة بواسطة  $Ax + By = C$  and  $a_n = a_1 + (n - 1)d$

35. مسألة تحفيزية حدد أي متتالية تمثل متتالية حسابية. اكتب نعم أو لا. اشرح. إذا كانت الإجابة نعم، فأوجد الفرق المشترك والحدود الثلاثة التالية.

a.  $2x + 1, 3x + 1, 4x + 1, \dots$  انظر الهامش. b.  $2x, 4x, 8x, \dots$  انظر الهامش.

36. الكتابة في الرياضيات ما أوجه الشبه أو الاختلاف بين الرسوم البيانية للمتتاليات الحسابية والدوال الخطية؟ انظر الهامش.

## 4 التقويم

تعيين المصطلح الرياضي اطلب من الطلاب شرح كيفية استخدام الحد الخامس عشر للمتتالية الحسابية  
 $-3, -1, 1, 1, -3 \dots$

### التقويم التكويني

تحقق من مدى استيعاب الطلاب للدروس 3-4 والدروس 3-5.

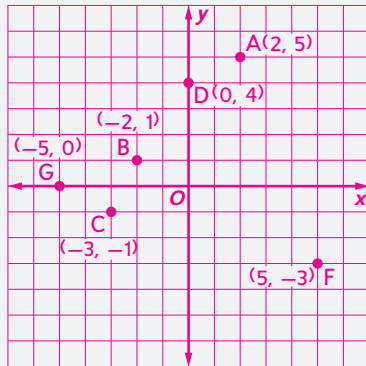
### إجابات إضافية

35a. نعم؛ يوجد فرق مشترك؛  
 $x, 5x + 1, 6x + 1, 7x + 1.$

35b. لا؛ إذا لم يكن  $x = 0$ . فلن يوجد فرق مشترك.

36. الإجابة النموذجية: إنهما متشابهان من حيث إن التمثيل البياني لحدود المتتالية الحسابية يقع على خط مستقيم. لذلك، يمكن تمثيل المتتالية الحسابية باستخدام دالة خطية. إنهما مختلفان من حيث إن المجال الخاص بالمتتالية الحسابية هو مجموعة الأعداد الطبيعية، بينما المجال الخاص بالدالة الخطية هو جميع الأعداد الطبيعية. لذلك، تُعد المتتاليات الحسابية منفصلة بينما تكون الدوال الخطية متصلة.

55-50



39. اكتب الصيغة الخاص بالحد  $n$  للمتتالية الحسابية. H  
 $-7, -4, -1, 2, \dots$

F  $a_n = 3n - 4$

G  $a_n = -7n + 10$

H  $a_n = 3n - 10$

J  $a_n = -7n + 4$

40. الإحصاء استلم الفصل درجات اختبار ACT التالية. ما الفرق بين المتوسط والمنوال في الدرجات؟ D

18, 26, 20, 30, 25, 21, 32, 19, 22, 29, 29, 27, 24

A 1

C 3

B 2

D 4

## تمرين على الاختبار المعياري

37. إجابة موزعة يتدر سكان ويسترفيل بحوالي 35,000 نسمة. ويزداد عدد السكان سنويًا بنحو 400 نسمة. يمكن تمثيل هذه الزيادة بواسطة الدالة التالية. حيث تمثل  $n$  عدد السنوات من الآن. بينما تمثل  $p$  عدد السكان.

$$p = 35,000 + 400n$$

في أي عدد من الأعوام سيصل عدد سكان ويسترفيل إلى 38200 نسمة تقريبًا؟ 8

38. ما العلاقة التي تشكل دالة؟ D

A  $\{(-5, 6), (4, -3), (2, -1), (4, 2)\}$

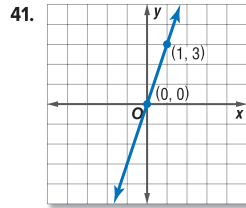
B  $\{(3, -1), (3, -5), (3, 4), (3, 6)\}$

C  $\{(-2, 3), (0, 3), (-2, -1), (-1, 2)\}$

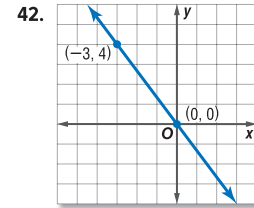
D  $\{(-5, 6), (4, -3), (2, -1), (0, 2)\}$

## مراجعة شاملة

عين ثابت التغير لكل تغير طردى. ثم أوجد ميل المستقيم المار بكل زوج من النقاط. (الدرس 3-4)



3, 3



$-\frac{4}{3}, \frac{4}{3}$

أوجد ميل المستقيم المار بكل زوج من النقاط. (الدرس 3-3)

43.  $(5, 3), (-2, 6) \quad -\frac{3}{7}$

44.  $(9, 2), (-3, -1) \quad \frac{1}{4}$

45.  $(2, 8), (-2, -4) \quad 3$

أوجد حل كل من المعادلات التالية. تحقق من إجابتك. (الدرس 2-3)

46.  $5x + 7 = -8 \quad -3$

47.  $8 = 2 + 3n \quad 2$

48.  $12 = \frac{c-6}{2} \quad 30$



كرة السلة  
 فتاة 453,000



كرة البيسبول  
 فتاة 369,000

49. الرياضات أكثر الألعاب الرياضية شيوعًا في مدرسة البنات الثانوية هي كرة السلة والبيسبول. اكتب معادلة واستخدمها لإيجاد الفرق بين عدد الفتيات اللاتي يلعبن كرة السلة وعدد الفتيات اللاتي يلعبن كرة البيسبول. (الدرس 2-1)

$d = 369000, 84000 - 453000$  الإجابة النموذجية:

## مراجعة المهارات

مثّل كل نقطة بيانيًا على نفس المستوى الإحداثي. 55-50. انظر الهامش.

50. A(2, 5)

51. B(-2, 1)

52. C(-3, -1)

53. D(0, 4)

54. F(5, -3)

55. G(-5, 0)

195

## التعليم المتميز BL

التوسع أخبر الطلاب بأنك قمت بتطبيق إجراء يحدد متتالية حسابية يكون فيها الحد الرابع هو 27 والحد الثامن هو 59. اطلب من الطلاب إيجاد رقم البداية والفرق المشترك. (تلميح: لنفرض أن الحد الرابع هو الحد الأول مؤقتًا، مما سيؤدي بدوره إلى أن يصبح الحد الثامن هو الحد الخامس.)  $a_1 = 3, d = 8$



## مختبر الجبر الاستدلال الاستقرائي والاستنتاجي

ممارسات رياضية  
بناء فرضيات عملية والتعليق على  
طريقة استنتاج الآخرين.

إذا كان خالد يشعر بوعكة صحية، فربما يذهب لزيارة الطبيب. سيشرح عليه الطبيب أسئلة حول ما يشعر به، ومن المحتمل أن يجري بعض الاختبارات الأخرى. وبناءً على أعراضه، يستطيع الطبيب تشخيص مرض خالد، وهذا يُعد مثالاً "للاستدلال الاستقرائي". **الاستدلال الاستقرائي** يستخدم لاستخلاص قاعدة عامة بعد ملاحظة عدة أحداث.



لاستخدام الاستدلال الاستقرائي:

### الخطوة 1

لاحظ عدة أمثلة.

### الخطوة 2

ابحث عن نمط.

### الخطوة 3

قم بتكوين فرضية.

### الخطوة 4

قم بالتحقق من الفرضية.

### الخطوة 5

استكشف النتيجة المرجحة.

باستخدام **الاستدلال الاستنتاجي**، نتوصل إلى نتيجة عن طريق قبول الحقائق. نتائج الاختبارات التي طلبها الطبيب قد تدعم التشخيص الأصلي أو تؤدي إلى استنتاج مختلف. وهذا يُعد مثالاً "للاستدلال الاستنتاجي". حيث لا توجد فرضية متضمنة. فكّر في العبارتين أدناه.

(1) إذا كان اختبار البكتيريا العقديّة إيجابياً، فهذا معناه أن المريض يعاني من التهاب الحلق.

(2) كانت نتيجة اختبار البكتيريا العقديّة الذي أُجري على خالد إيجابية.

إذا تم قبول هاتين العبارتين بوصفهما حقيقتين، فإن الاستنتاج الواضح هو إصابة خالد ببكتيريا الحلق. وهذا يُعد مثالاً "للاستدلال الاستنتاجي".

## تمارين

1. وضح الفارق بين الاستدلال الاستقرائي والاستنتاجي. ثم أعط مثالاً لكل منهما. 3-4. **انظر ملحق إجابات الوحدة 3.**

2. عندما يستنتج المحقق طول قامة المشتبه به من المسافة التي بين آثار الأقدام، فما نوع الاستدلال الذي يستخدمه؟ اشرح.

3. عند دراسة عدد متناهِ من الحدود في متتالية من الأعداد وتقرر أنه متتالية حسابية، فما نوع الاستدلال الذي تستخدمه؟ اشرح.

4. لنفترض أنك قد وجدت الفارق المشترك لمتتالية حسابية بناءً على تحليل عدد متناه من الحدود، فما نوع الاستدلال الذي تستخدمه لإيجاد الحد رقم 100 في المتتالية؟

### المثابرة

a. امسح الجدول ثم أكمله. 19,683

$3^1$	$3^2$	$3^3$	$3^4$	$3^5$	$3^6$	$3^7$	$3^8$	$3^9$
3	9	27	81	243	729	2187	6561	

b. اكتب متتالية الأعداد ممثلاً الأعداد في خانة الآحاد. 3, 9, 7, 1, 3, 9, 7, 1, 3, ...

c. أوجد العدد الموجود في منزلة الآحاد للقيمة  $3^{100}$ . اشرح استنتاجك. اذكر نوع استنتاجك الذي استخدمته.

**انظر ملحق إجابات الوحدة 3.**

## 1 التركيز

**الهدف** استقصاء الاستدلال الاستقرائي والاستنتاجي.

### نصائح للتدريس

■ اطلب من الطلاب شرح أنواع الآراء الموجودة لديهم عند حل مسألة معينة. إذا وجد الطلاب صعوبة في استحضار الأفكار، فاذا كان لهم موقفاً. أسألهم كيف سيحلون مسألة تتطلب فتح باب مغلق إذا كان لديهم حلقة مفاتيح تشتمل على 100 مفتاح.

■ اشرح للطلاب أن أصل كلمة استقرائي هو استقرأ. واستقرأ فعل يعني استدعاء القوة أو التسبب بفعل تأثير معين، أو للتسبب في تكون. بعد أن يقرأ الطلاب وصف الاستدلال الاستقرائي، اطلب منهم الربط بين مبدأ الاستدلال الاستقرائي وتعريف كلمة استقرأ.

■ اشرح للطلاب أن أصل كلمة استنتاجي هو استنتج. واستنتج هو فعل يعني الاستنتاج من مبدأ عام. اطلب من الطلاب الربط بين مبدأ الاستدلال الاستنتاجي وتعريف الكلمة استنتج.

## 2 التدريس

### العمل في مجموعات تعاونية

قسّم الطلاب إلى مجموعات مكونة من ثلاثة أو أربعة طلاب. اطلب من المجموعات مساعدة بعضها البعض لإكمال التمرينين 1 و 2.

### اطرح السؤال التالي:

■ ما المقصود بالفرضية؟ هي تخمين بناء على معلومات غير كاملة

**تمرين** اطلب من الطلاب إكمال التمارين 3-5.

## 3 التقويم

### التقويم التكويني

اسأل الطلاب عما إذا كانوا يتنبؤون بالحد التالي في متتالية من الأعداد عن طريق التجربة والخطأ، أم عن طريق تفسير المعطيات المتوفرة باستخدام مجموعة من القواعد.